



GUÍA DE TRABAJO N°1

“sumar y restar hasta el 1000”

Nombre: _____

Escribe los siguientes números en orden desde el menor a mayor.

856 205 685 502 ▶

105 692 498 319 ▶

475 917 201 738 ▶

157 468 787 253 ▶

378 324 953 764 ▶

499 739 500 601 ▶

Ahora, escribe los números en orden de mayor a menor.

178 187 871 817 ▶

560 650 450 550 ▶

432 243 324 342 ▶

501 589 598 510 ▶

435 436 634 653 ▶

935 915 973 937 ▶

A practicar ;

Sumar números de 3 dígitos y números menores que 100

		□	1	□	
	2	5	7		
+		8	5		
					2

Primero, sumo las unidades.
Anoto el canje si es necesario.

		1	1	□	
	2	5	7		
+		8	5		
			2		2

Luego, sumo las decenas.
Anoto el canje si es necesario.


		1	1	□	
	2	5	7		
+		8	5		
	3	4	2		

Finalmente,
sumo las centenas.



Sume.

1	□	□	□	□	□	□	□	□	□	□	□	□				
	3	5	7	2	8	5	6	2	7	4	3	6				
	+		2	6	+		1	7	+		4	3	+			8



5 centenas



3 centenas

$$5 + 3 = 8$$

$$5 \text{ centenas} + 3 \text{ centenas} = 8 \text{ centenas}$$



$$500 + 300 = 800$$

Si $5 + 3 = 8$,
entonces,
 $500 + 300 = 800$.



Completa.

1



4 centenas


2 centenas

$$4 + 2 = \underline{\quad}$$

$$4 \text{ centenas} + 2 \text{ centenas} = \underline{\quad} \text{ centenas}$$

$$400 + 200 = \underline{\quad}$$

2



5 centenas



4 centenas

$$5 + 4 = \underline{\quad}$$

$$5 \text{ centenas} + 4 \text{ centenas} = \underline{\quad}$$

$$500 + 400 = \underline{\quad}$$

3



6 centenas



2 centenas

$$6 + 2 = \underline{\quad}$$

$$6 \text{ centenas} + 2 \text{ centenas} = \underline{\quad}$$

$$600 + 200 = \underline{\quad}$$

4



4 centenas

3 centenas

$$4 + 3 = \underline{\quad}$$

$$4 \text{ centenas} + 3 \text{ centenas} = \underline{\quad}$$

$$400 + 300 = \underline{\quad}$$