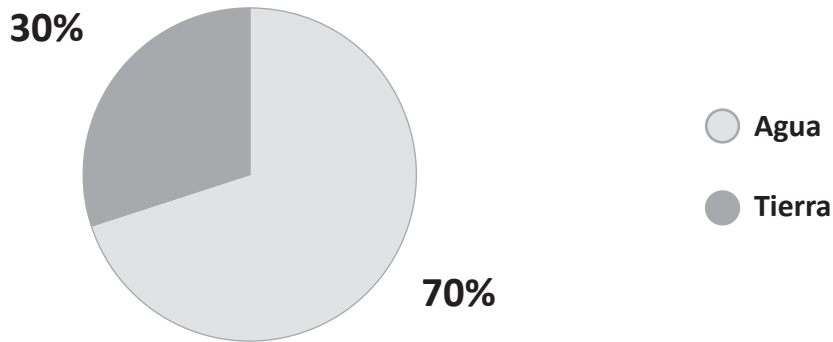




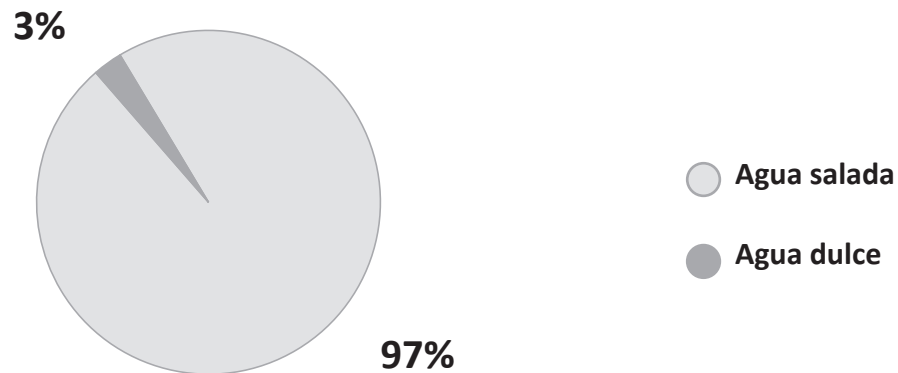
Distribución del agua en la Tierra

Observa los gráficos y en la página siguiente, formula dos preguntas relacionadas con cada uno de ellos.

1. Distribución de agua y tierra en el planeta

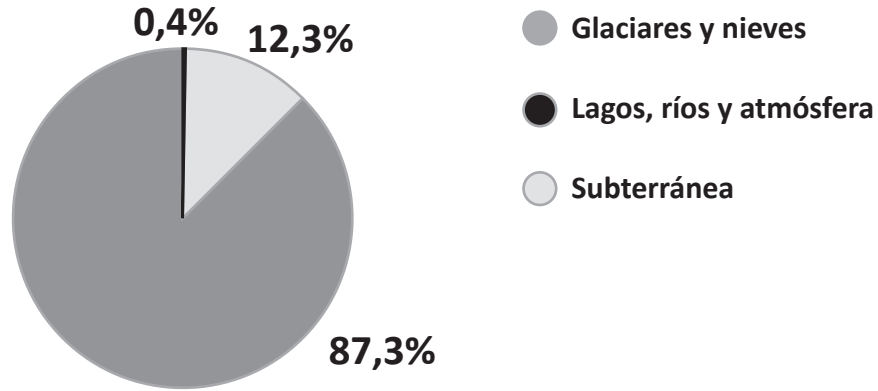


2. % de agua dulce y de agua salada en la Tierra





1. Distribución de agua dulce en la Tierra



Formula dos preguntas acerca de cada gráfico y respóndelas. Luego, comenta tus preguntas y respuestas con tus compañeros.

1.
.....
.....
.....

2.
.....
.....
.....

3.
.....
.....
.....