











Diferentes fuentes de agua

Completa el siguiente cuadro, siguiendo el modelo:

FUENTES DE AGUA	AGUA DULCE	¿Sólida, líquida o gaseosa?
 <p>Glaciares</p>	<i>Agua dulce</i>	<i>Sólida</i>
 <p>Nubes</p>		
 <p>Océanos</p>		
 <p>Nieve</p>		
 <p>Mar</p>		
 <p>Lluvia</p>		
 <p>Vapor de agua</p>		
 <p>Lagos</p>		